

Задача № 9

На кустике висело 7 ягод клубники. Когда несколько ягод созрело и упало, осталось 5 ягод. Сколько ягод созрело и упало?


Было – 7 яг.

Упало – ? яг.

Осталось – 5 яг.

$$7 - 5 = 2 \text{ (яг.)}$$

Ответ: 2 ягоды.



• Реши задачи.

На поляне было **5** кроликов.
2 кролика убежали. Сколько кроликов осталось?
Запиши решение.

--	--	--	--	--



В стае было **7** рыбок. К ним приплыли ещё **2** рыбки.
Сколько стало рыбок?
Запиши решение.

--	--	--	--	--



На дубе было **9** желудей. **3** жёлудя упало. Сколько желудей осталось?
Запиши решение.

--	--	--	--	--



У мальчика получилось **4** мыльных пузыря, а у кота — только **3**.
Сколько всего получилось мыльных пузырей?
Запиши решение.

--	--	--	--	--



Реши задачи на вычитание и запиши их решения.

В гараже стояли пять машин. Утром две уехали. Сколько машин осталось?



	-		=	
--	---	--	---	--



	-		=	
--	---	--	---	--

В гнезде сидели семь птичек. Три птички улетели. Сколько птичек осталось?




Около елки росло восемь грибов. Четыре из них несъедобных. Сколько съедобных грибов росло под елкой?

	-		=	
--	---	--	---	--



Реши задачи. Запиши решения.

В цирке выступали две лошади и один слон. Сколько зверей выступало в цирке?



	+		=	
--	---	--	---	--

Над цветами летали три бабочки и четыре стрекозы. Сколько насекомых летало над цветами?



	+		=	
--	---	--	---	--

6

Реши задачи в стихах. Запиши их решения.

Три пушистых кошечки
Улеглись в лукошечко.
Тут одна к ним прибежала
Сколько вместе кошек стало?




--	--	--	--	--



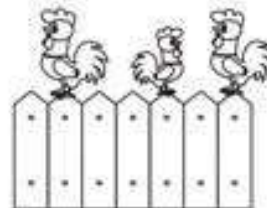
На пасеке три медвежонка
Играли в прятки у бочонка.
Один в бочонок еле влез.
А сколько убежало в лес?

--	--	--	--	--

Карандаш один у Миши.
Карандаш один у Гриши.
Сколько же карандашей
У обоих малышей?



--	--	--	--	--



На плетень взлетел петух,
Повстречал ещё там двух.
Сколько стало петухов?
У кого ответ готов?

--	--	--	--	--

27